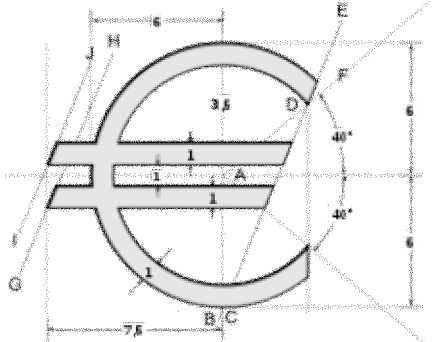




4		LB S. 164 Nr. 9	Löse die Aufgaben in ansprechender Form im Hefter!	Teste dein Wissen!	
3	<p>Ergänze!</p> <p>0,25 € + _____ = 1 €</p> <p>1,50 € + _____ = 10 €</p> <p>71,03 € + _____ = 100 €</p> <p>15,60 € + _____ = 20 €</p> <p>35,00 € + _____ = 50 €</p> <div style="border: 1px solid black; padding: 5px; display: inline-block; margin-left: 20px;">LB S.164/10; 11; 12</div>	LB S. 164 Nr. 7; 8	<p>Sparen und Kaufen</p> <p>Formuliere die Frage und löse die entsprechende Aufgabe!</p> <p>AB</p>		
2	<p>Wie viel ist das?</p> <p>a) </p> <p>b) </p>	<p>Schreibe in Cent!</p> <p>5 €</p> <p>2 € 18 ct</p> <p>Schreibe in Euro!</p> <p>500 ct</p> <p>1000 ct</p> <div style="border: 1px solid black; padding: 5px; display: inline-block; margin-left: 20px;">S. 163/164 Nr. 5; 6</div>	LB S. 165. Nr. 14; 16	<p>Euro-Länder</p> <p>Male und beschrifte alle europäischen Länder, in denen der Euro Zahlungsmittel ist!</p> <p>Atlas und Internet</p>	
1	<p>Lege:</p> <p>1,25 €</p> <p>10,03 €</p> <p>15,76 €</p>	<p>Gib die Einheiten an!</p> <p>_____ ↔ _____</p>	Löse das AB! (FOLIE)	<p>Zur Geschichte des Geldes</p> <p>Wähle einen Lückentext aus, ergänze diesen und klebe ein!</p>	
A Unser Geld		B Geldwerte		C Rechnen mit Geldbeträgen	D Euroländer und Anderes